

## FIȘĂ DE EVALUARE V.1

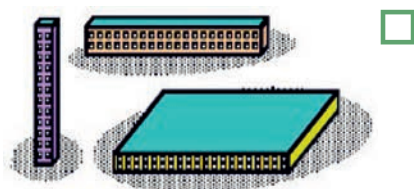


Elev: .....

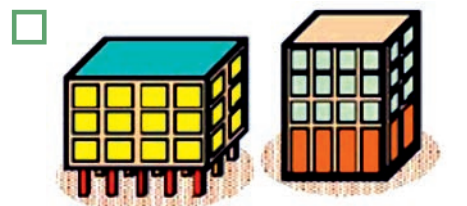
Clasa: .....

Școala: .....

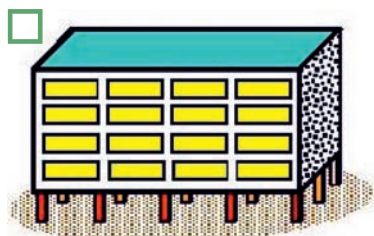
1. Care sunt fenomenele asociate de multe ori cu producerea unui cutremur?
  - a. inundații
  - b. alunecări de teren
  - c. incendii
  - d. schimbarea vremii
  - e. emisii de radon
  - f. reacții ale unor animale
  - g. căderi de coșuri de fum
  - h. prăbușirea unor avioane
  - i. prăbușirea de construcții
  - j. avarierea unor rețele de apă și curent electric, gaze, telefonie
2. Enumerați câteva dintre efectele directe și indirecte ale unui cutremur?
3. Care dintre tipurile de clădiri, prezentate mai jos, credeți că vor oscila mai puternic și poate că vor avea mai mult de suferit în cazul producerii unui cutremur vrâncean major? Justificați!



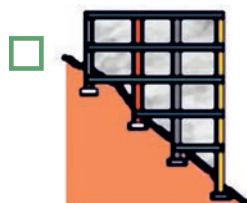
Clădiri care au una dintre dimensiuni mult mai mare decât celelalte două



Clădiri cu elemente structurale discontinue (perete de beton armat întrerupt la parter)



Clădiri cu un nivel slab sau flexibil



Clădiri în pantă, cu stâlpi de înălțimi diferite de-a lungul pantei



Clădiri parter