

IV

FIȘĂ DE EVALUARE IV



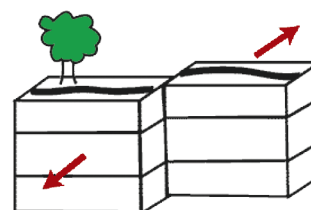
Elev:

Clasa:

Școala:

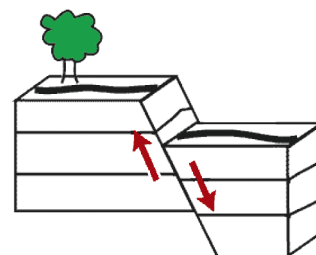
A

1. Ce tip de falie este aceasta?
2. Cum are loc mișcarea pe planul acesteia?
3. Descrie ce se întâmplă, în cazul unui seism, dacă un fermier a construit de-a lungul acestei falii.



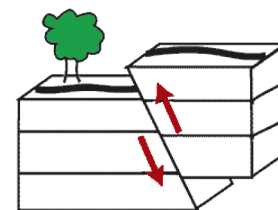
B

1. Ce tip de falie este aceasta?
2. Cum are loc mișcarea pe planul acesteia?
3. Descrie ce se întâmplă, în cazul unui seism, dacă un fermier a construit de-a lungul acestei falii.



C

1. Ce tip de falie este aceasta?
2. Cum are loc mișcarea pe planul acesteia?
3. Descrie ce se întâmplă, în cazul unui seism, dacă un fermier a construit de-a lungul acestei falii.



Calificativ

Cadru didactic